

Pracovný list

1. Vypočítaj !

$$\begin{array}{ll} 5 \cdot 6 = & 7 \cdot 9 = \\ 8 \cdot 7 = & 6 \cdot 5 = \\ 7 \cdot 6 = & 4 \cdot 9 = \\ 2 \cdot 3 = & 2 \cdot 4 = \\ 6 \cdot 6 = & 8 \cdot 8 = \end{array}$$

2. Rozdeľ!

Dá sa / nedá sa

Po 3 kusoch	*****	
Po 5 kusoch	♥♥♥♥♥	
Po 2 kusoch	&&&&&&&	
Po 4 kusoch	😊😊😊😊😊😊😊😊😊😊	

3. Vypočítaj

Kristína má 38 kvetov. Robí kytice zo 4 kvetov. Koľko kytíc môže urobiť?


Zápis: Rozdeľuje _____ kvetov na kytice po 3 kusoch.



Výpočet: _____





Odobrala __ krát.

Odpoveď: Kristína môže urobiť _____ kytíc.

4. Rozdeľ 45 hviezdičiek, ak sa dá, do obláčikov na obrázku tak, aby v každom bol rovnaký počet hviezdičiek. Koľko hviezdičiek je v obláčikoch?







5. Vypočítaj!

Tomáš naplnil kockami niekoľko škatúl. Každá škatuľa obsahuje 6 kociek. Spotreboval na to 54 kociek. Koľko škatúl naplnila Ema?

Zápis: Po naplnení

1. Škatule mu zostalo $54 - 6 = \underline{\quad}$

2. Škatule mu zostalo $\underline{\quad} - 6 = \underline{\quad}$

3. Škatule mu zostalo $\underline{\quad} - 6 = \underline{\quad}$

4. Škatule mu zostalo $\underline{\quad} - 6 = \underline{\quad}$

5. Škatule mu zostalo $\underline{\quad} - 6 = \underline{\quad}$

6. Škatule mu zostalo $\underline{\quad} - 6 = \underline{\quad}$

7. Škatule mu zostalo $\underline{\quad} - 6 = \underline{\quad}$

8. Škatule mu zostalo $\underline{\quad} - 6 = \underline{\quad}$

9. Škatule mu zostalo $\underline{\quad} - 6 = \underline{\quad}$

Výpočet: _____

Odpoveď: Tomáš naplnil _____ škatúl.